

1. Prehistoria, najdłuższy okres w dziejach ludzkości dzieli się na kilka epok. Która z wymienionych epok była najdłuższa? (0-1p)
 - A. epoka żelaza,
 - B. epoka brązu,
 - C. epoka kamienia,
 - D. epoka miedzi.

2. Za zakończenie prehistorii, a początek starożytności uznaje się: (0-1p)
 - A. rewolucję neolityczną,
 - B. powstanie pierwszych państw,
 - C. powstanie pierwszych miast,
 - D. wynalezienie pisma.

3. Starożytni Egipcjanie wierzyli w wielu bogów z których każdy za coś odpowiadał. Połącz w pary boga z jego dziedziną. (0-3p)

Ozyrys , Horus, Re,

Sędzia zmarłych	
Bóg nieba, opiekun Egiptu	
Bóg Słońca	

4. Najbardziej znane miejsca i budowle starożytności zostały nazwane cudami świata starożytnego. Ile było takich cudów ? (0-1p)

.....

5. W 480 roku p.n.e. Spartanie pod wodzą Leonidasa stawili opór wielotysięcznym wojskom perskim. Podaj ilu według legendy Spartan liczył ten oddział? (0-1 p)

.....

6. Uporządkuj chronologicznie wydarzenia z historii starożytnej zaczynając od najwcześniejszego. Najwcześniejsze wydarzenie oznacz cyfrą 1. Następne cyframi 2,3,4,5. (0-1p)

Wojny Greków z Persami.	
Budowa piramidy Cheopsa.	
Podboje Aleksandra Wielkiego.	
Wojny Rzymian z Kartagińczykami.	
Narodziny chrześcijaństwa.	

7. Czym w starożytnej Grecji by akropol? (0-1p)

- A. wzgórzem w Atenach na którym znajdują się świątynie,
- B. miastem lub jego częścią znajdującą się na wzgórzu,
- C. częścią miasta w której znajdują się świątynie,
- D. częścią miasta w którym znajduje się agora.

8. Bogowie rzymscy mieli swoich odpowiedników wśród bogów greckich. Uzupełnij tabelę wpisując odpowiedniego boga greckiego. (0 -5p)

Merkury	
Neptun	
Diana	
Minerwa	
Wiktoria	

9. Określ, które z poniższych zdań jest fałszywe (wpisując literę F) lub prawdziwe (wpisując literę P). (0 - 4p)

Cesarstwo Rzymskie zajmowało terytoria na trzech kontynentach.	
W 476 roku upadło Cesarstwo Rzymskie.	
Rok 395 przyjęto uważać za koniec starożytności.	
Chrześcijaństwo w II wieku stało się religią panującą w Cesarstwie Rzymskim.	

Tekst źródłowy do pytań 10, 11,12,13

Korzystając z poniższego tekstu i własnej wiedzy odpowiedz na pytania 10, 11.12.13.

„[...] nie ustępowała hańbiąca pogłoska i nadal wierzono, że pożar był nakazany. Aby ją więc usunąć podstawił Neron winowajców i dotknął najbardziej wyszukanymi kaźniami[...] Schwytano naprzód tych, którzy tę wiarę publicznie wyznawali, potem na podstawie ich zeznań ogromne mnóstwo innych, i udowodniono im nie tyle zbrodnię podpalenia, ile nienawiść ku rodzajowi ludzkiemu. Okryci skórami dzikich zwierząt ginęli rozszarpywani przez psy albo przybici do krzyży, albo, przeznaczeni na pastwę płomieni, gdy zabrakło dnia, palili się, służąc za nocne pochodnie. Na to widowisko ofiarował Neron swój park i wydał igrzysko w cyrku, gdzie w przebraniu woźnicy między tłum się mieszał lub na wozie stawał.

Tacyt, Roczniki, I/II wiek n.e.

10. Jakiej grupy ludzi dotyczy powyższy tekst?..... (0-1p)

11. O jakie zbrodnie oskarżano przede wszystkim tą grupę ludzi?.....(0-1p)

.....

12. Dlaczego doszło do prześladowań?.....

.....(0-1p)

13. Kogo prześladowano w pierwszej kolejności?.....

.....(0-1p)

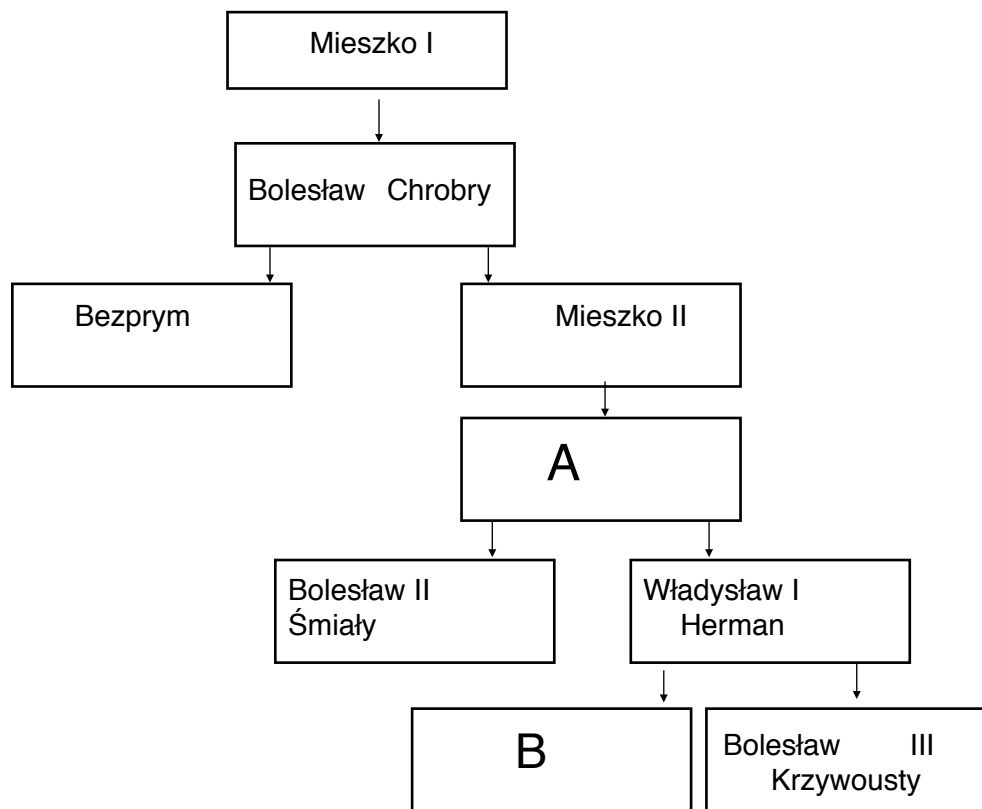
14. Ze starożytnym Rzymem związane jest pojęcie imperium. Oznacza ono: (0-1p)

- A. jest to fragment oficjalnej nazwy jakiegoś państwa np. Imperium Babilońskie,
- B. grupa państw połączonych osobą władcy,
- C. wielkie państwo powstałe z podbicia innych ludów lub państw,
- D. wielkie państwo, które istniało bardzo długo.

15. Wśród wymienionych informacji (postać historyczna, miejsce, rok) wybierz prawidłowo dobraną. (0-1p)

- A. Bolesław Krzywousty, 1109, Głógów,
- B. Mieszko II, 996, Gniezno,
- C. Bolesław Chrobry, 972 , Cedynia,
- D. Mieszko I, 1000 Zjazd Gnieźnieński.

Na podstawie drzewa genealogicznego Piastów i posiadanej wiedzy odpowiedz na pytania 16, 17, 18 i 19



16. Kim dla Bolesława Chrobrego był Bolesław Śmiały?(0-1p)

17. A (uzupełnij brakującą postać)..... (0-1p)

18. B (uzupełnij brakującą postać)..... (0-1p)

19. Którzy z władców byli koronowani na króla Polski?

.....(0-3p)

20. Który z władców Polski panował w czasie wymienionych wydarzeń? (0-4p)

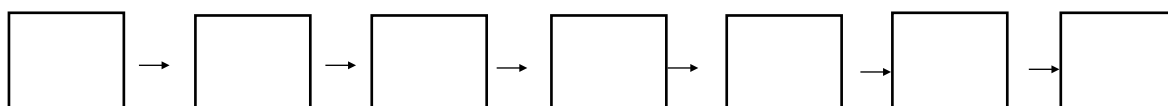
Początek XVI	
Początek XVII wieku.	
Zdobycie Konstantynopola przez Turków.	
Wydanie dzieła M.Kopernika O obrotach sfer niebieskich.	

21. Podkreśl chronologicznie uporządkowany ciąg wydarzeń historycznych : (0-1p)

- A. odkrycie drogi morskiej do Indii, początek reformacji, odkrycie Ameryki,
- B. odkrycie Ameryki, odkrycie drogi morskiej do Indii, początek reformacji,
- C. początek reformacji, odkrycie drogi morskiej do Indii, odkrycie Ameryki.

22. Podane wydarzenia ułóż w ciąg przyczynowo - skutkowy, wpisując odpowiednie litery odpowiadające wydarzeniom. (0-1p)

- A. zagrożenie ze strony pogan,
- B. wielka wojna z Krzyżakami,
- C. stopniowe osłabienie potęgi zakonu,
- D. upadek państwa zakonnego,
- E. sprowadzenie krzyżaków do Polski,
- F. zagrożenie dla Polski,
- G. wzrost potęgi zakonu.



23. Na podstawie opisu zidentyfikuj osobę lub wydarzenie (0 - 6p)

Syn wielkiego wojownika o imieniu Jarema, który został królem Polski.	
Polski magnat, doradca królów, hetman, humanista, założyciel miasta.	
Magnat, żołnierz, hetman, marszałek, król. Mąż królowej Marysienki.	
Polski szlachcic. Autor słów o Polakach i gęsiach.	
Efekt sporu o tron szwedzki o biblijnej nazwie. Zakończony pokojem w Oliwie.	
Tło historyczne powieści H.Sienkiewicza Ogniem i mieczem.	

Mapa do pytań 24, 25, 26, 27



https://gwo.pl/strony/2572/seo_link:materiały-do-nauki-czytania-map-historycznych

24. Wymień 3 miejsca gdzie stoczono bitwy insurekcji kościuszkowskiej. (0-1p)

.....

25. Które z państwa zaborczych zagarnęło najwięcej terytorium Polski? (0-1p)

26. W jakim zaborze znalazła się Warszawa?..... (0-1p)

27. W jakiej miejscowości (znajdującej się na mapie) ustanowiono order Virtuti Militari?

.....(0-1p)

28. Które z podanych wydarzeń związane są z wymienionymi postaciami ? (0- 3p)

Józef Poniatowski, Stanisław Małachowski, Jan Skrzynecki

Konstytucja 3 maja	
Wojna w obronie konstytucji	
Powstanie listopadowe	

Ilustracja do pytań 29, 30, 31



https://pl.wikipedia.org/wiki/Aleksander_Sochaczewski

29. Na obrazie przedstawiono wydarzenie, które było jedną z przyczyn wybuchu powstania narodowego. O jakie powstanie chodzi? (0-1p)

.....

30. Jak się nazywało to wydarzenie? (0-1p)





31. W którym roku miało miejsce to wydarzenie?(0-1p)

32. W XIX wieku powstało wiele dzieł literackich. Przyporządkuj autora do dzieła.
(0-4p)

Juliusz Słowacki, Adam Mickiewicz, Maria Konopnicka, Eliza Orzeszkowa

Konrad Wallenrod	
Nad Niemnem	
Rota	
Balladyna	

33. Po zapoznaniu się z fragmentem tekstu i ilustracjami ukazującymi wybitnych przedstawicieli kultury polskiej w XIX w. Wpisz ich imię i nazwisko. (0-4)

	<p>Urodził się w 1798 roku w Nowogrodku. Zmarł w 1855 roku w Stambule. Współzałożyciel Towarzystwa Filomatów. Skazany w 1824 roku na osiedlenie się w głębi Rosji.</p> <p>.....</p>
	<p>Urodził się w 1810 roku w Żelazowej Woli. Zmarł w 1849 roku w Paryżu. Opuścił Polskę w 1830 roku osiedlił się w Paryżu. Był jednym z najlepszych pianistów swoich czasów.</p> <p>.....</p>
	<p>Urodził się w 1846 roku w Woli Okrzejskiej. Zmarł w 1916 roku w Szwajcarii. Autor powieści historycznych pisanych „ku pokrzepieniu serc”.</p> <p>.....</p>
	<p>Urodził się w 1838 roku w Krakowie. Zmarł w 1893 roku w Krakowie. Twórca wielu dzieł o tematyce historycznej.</p> <p>.....</p>

34. Wiek XVIII i XIX obfitowały w wiele odkryć i wynalazków. Przyporządkuj wynalazek lub odkrycie do odpowiedniego wieku.(0-6)

fotografia, maszyna parowa, lampa naftowa, piorunochron, spadochron, telegraf

Wiek XVIII	Wiek XIX

Tekst źródłowy do pytań , 34,35,36. 37

Korzystając z poniższego tekstu i własnej wiedzy odpowiedz na pytania 33, 34,35,36

Starsi mężowie stanu robili niedoleżnie wszystko, co mogli, aby zapobiec wojnie, podczas gdy młodzież w rywalizujących ze sobą państwach niecierpliwie hałasowała przed ich drzwiami, domagając się wojny natychmiastowej. Nigdy nie zapomnę wojowniczych tłumów, w chwili gdy gabinet omawiał szanse pokoju i wojny. Mnóstwo młodych ludzi stało pod Westminsterem, demonstrując za wojną z Niemcami; słyszeliśmy pomruki tego tłumu z sali posiedzeń gabinetu. Tłumy były tak gęste, że żaden wehikuł nie mógł się między nimi przecisnąć. Była to niewątpliwie demonstracja za wojną.*

W kilka dni potem biura werbunkowe zostały zainstalowane na placach publicznych i były również zalane tłumami młodych ludzi, oblegających stoliki i przepychających się, aby wnieść swoje nazwiska na listy żołnierzy.

Londyńskie demonstracje miały swój odpowiednik w Petersburgu, Berlinie, Wiedniu, Paryżu. Nareszcie ludność i militaryści chcieli tego samego.

David Lloyd George, *Wspomnienia wojenne*, 1933 rok

35. Jakiej wojny dotyczy powyższy tekst?(0-1p)

36. Kto starał się zapobiec wojnie?(0-1p)

37. Kto domagał się wojny? (0-1p)

38. Gdzie miały miejsce opisywane wydarzenia?(0-1p)

39. Wybuch tej wojny związany jest z zamachem na austriackiego księcia. W jakim mieście miał miejsce ten zamach? (0-1p)

.....

40. Przed pierwszą wojną światową państwa europejskie znajdowały się w dwóch wrogich sojuszach . Wymień nazwy tych sojuszy i państwa które do nich należały. (0-8p)

Nazwy sojuszy		
Państwa		

41. Po pierwszej wojnie światowej stopniowo kształtowały się granice odrodzonego państwa polskiego. W którym roku Bydgoszcz wróciła do Polski? (0-1p)

.....

42. Na jakiej podstawie nastąpił ten powrót? (0-1p)

- A. plebiscytu,
- B. traktatu,
- C. powstania,
- D. wojny.

43. Wielki wpływ na losy świata w pierwszej połowie XX wieku miały ideologie: faszystowska i komunistyczna. Podaj nazwy pierwszych państw, w których do władzy doszli faszyci i komuniści. (0-2p)

Faszyści	Komuniści

44. Wyjaśnij pojęcia i nazwy związane z II wojną światową.(0-4p)

Enigma	
Wielka trójka	
Bitwa o Anglię	
Koalicja antyhitlerowska	

45. Powstałe po II wojnie światowej określenie - żelazna kurtyna odnosi się do:(0-1p)

- A. rodzaju broni,
- B. taktyki,
- C. granic,
- D. wojska.

46. Po II wojnie światowej ukształtował się tzw. blok państw demokracji ludowej. Wśród tych państw nie było:(0-1p)

- A. Polski,
- B. Austrii,
- C. Rumunii,
- D. Węgier.

47. Co oznaczały funkcjonujące w latach 1945 - 1989 skróty nazw instytucji? (0-4p)

PZPR	
SB	
MO	
ZOMO	

48. Na podstawie opisu zidentyfikuj osobę lub wydarzenie.(0-3p)

Pierwszy premier wolnej Polski w 1989 roku.	
Pierwszy prezydent wolnej Polski w 1989 roku.	
Wydarzenie to miało miejsce 1 maja 2004 roku.	

49. Uporządkuj chronologicznie wydarzenia z historii najnowszej zaczynając od najwcześniejszego. Najwcześniejsze wydarzenie oznacz cyfrą 1. Następne cyframi 2,3,4,5. (0-1p)

Wstąpienie Polski do NATO.	
Obrady okrągłego stołu.	
Wprowadzenie stanu wojennego.	
Powstanie Solidarności.	

50. W czasach PRL produkowano wiele kultowych rzeczy. Określ co to było.(0-3)

Syrenka	
Frania	
Junak	

Brudnopis

.....

.....

.....

.....

.....

.....

.....

.....

.....

.....

.....

.....

.....

.....

.....

.....